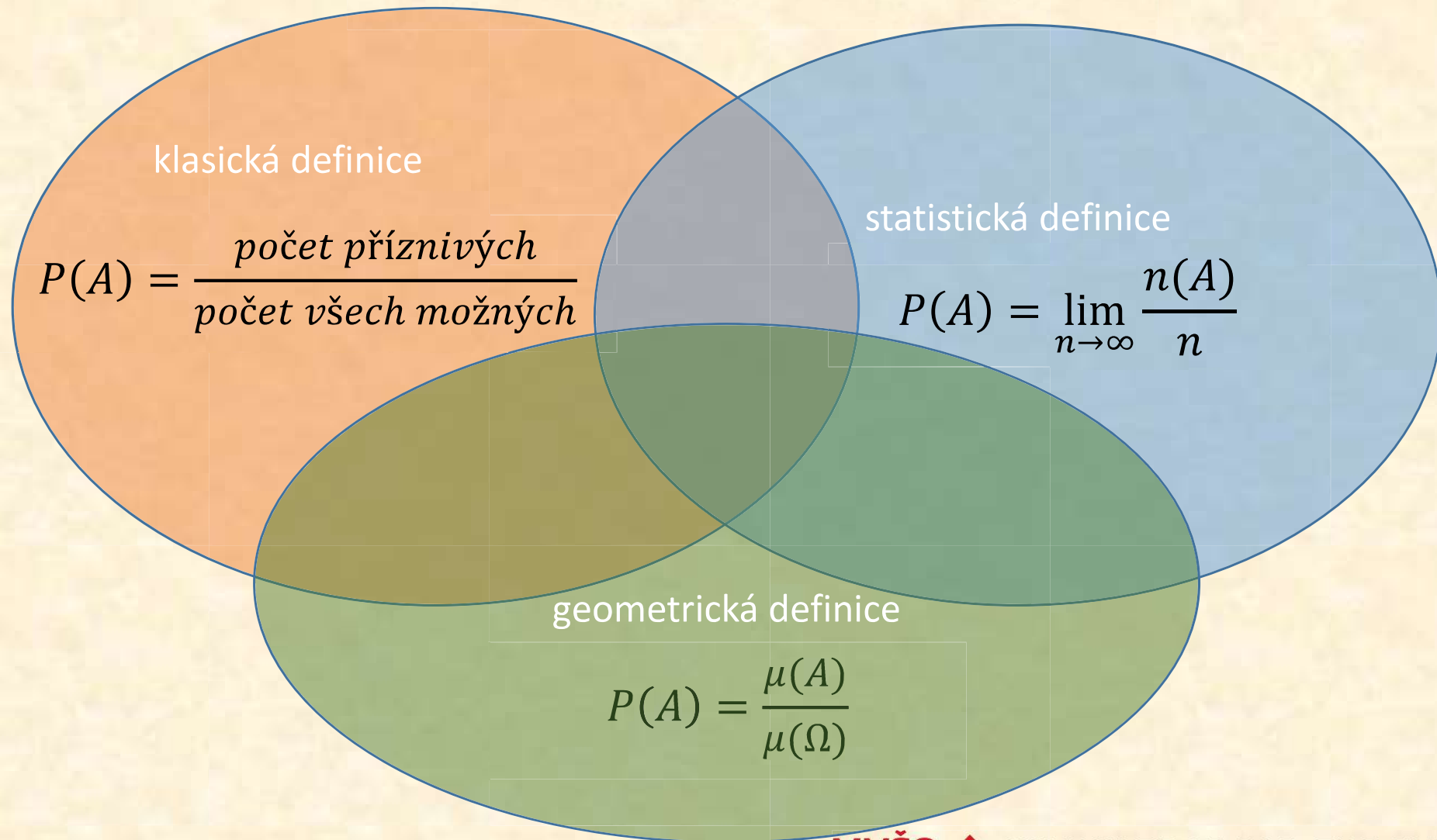


Pravděpodobnost

3 definice jeden význam

Pravděpodobnost

3 definice jeden význam



Pravděpodobnost

3 definice jeden význam

klasická definice

statistická definice

geometrická definice

Pravděpodobnost

3 definice jeden význam

Axiomy pravděpodobnosti (Andrej Nikolajevič Kolmogorov , 1933)
Definuje pojem pravděpodobnosti a její vlastnosti, neudává však žádný návod k jejímu stanovení.

Pravděpodobnost

3 definice jeden význam

Axiomy pravděpodobnosti (Andrej Nikolajevič Kolmogorov , 1933)

Definuje pojem pravděpodobnosti a její vlastnosti, neudává však žádný návod k jejímu stanovení.

1. Pravděpodobnost každého jevu A je reálné číslo **mezi 0 a 1** (včetně).

Pravděpodobnost

3 definice jeden význam

Axiomy pravděpodobnosti (Andrej Nikolajevič Kolmogorov , 1933)

Definuje pojem pravděpodobnosti a její vlastnosti, neudává však žádný návod k jejímu stanovení.

1. Pravděpodobnost každého jevu A je reálné číslo **mezi 0 a 1** (včetně).
2. Pravděpodobnost jevu **jistého** je rovna **1**.

Pravděpodobnost

3 definice jeden význam

Axiomy pravděpodobnosti (Andrej Nikolajevič Kolmogorov , 1933)

Definuje pojem pravděpodobnosti a její vlastnosti, neudává však žádný návod k jejímu stanovení.

1. Pravděpodobnost každého jevu A je reálné číslo **mezi 0 a 1** (včetně).
2. Pravděpodobnost jevu **jistého** je rovna **1**.
3. Pravděpodobnost, že nastane některý z navzájem se vylučujících jevů, je rovna **součtu** jejich **pravděpodobností**.

Pravděpodobnost

3 definice jeden význam

Axiomy pravděpodobnosti (Andrej Nikolajevič Kolmogorov , 1933)

Definuje pojem pravděpodobnosti a její vlastnosti, neudává však žádný návod k jejímu stanovení.


1. Pravděpodobnost každého jevu A je reálné číslo **mezi 0 a 1** (včetně).
2. Pravděpodobnost jevu **jistého** je rovna **1**.
3. Pravděpodobnost, že nastane některý z navzájem se vylučujících jevů, je rovna **součtu** jejich **pravděpodobností**.



NEBO


Pravděpodobnost vysvětlení dalších pojmů

V urně je 20 různých útvarů (viz obrázek). Náhodně bude vybrán jeden z nich.



Pravděpodobnost vysvětlení dalších pojmů


V urně je 20 různých útvarů (viz obrázek). Náhodně bude vybrán jeden z nich.



jev A vybraný objekt je smajlík

Pravděpodobnost vysvětlení dalších pojmů

V urně je 20 různých útvarů (viz obrázek). Náhodně bude vybrán jeden z nich.




jev A vybraný objekt je smajlík

jev opačný A' vybraný objekt není smajlík

Pravděpodobnost

vysvětlení dalších pojmů

V urně je 20 různých útvarů (viz obrázek). Náhodně bude vybrán jeden z nich.



jev A vybraný objekt je smajlík $P(A) = \frac{4}{20} = 0,2 = 20\%$


jev opačný A' vybraný objekt není smajlík

$$P(A') = \frac{20 - 4}{20} = 1 - P(A) = 1 - 0,2 = 0,8 = 80\%$$

Pravděpodobnost

vysvětlení dalších pojmů

V urně je 20 různých útvarů (viz obrázek). Náhodně bude vybrán jeden z nich.




jev A vybraný objekt je smajlík $P(A) = \frac{4}{20} = 0,2 = 20\%$

jev opačný A' vybraný objekt není smajlík

$$P(A') = \frac{20 - 4}{20} = 1 - P(A) = 1 - 0,2 = 0,8 = 80\%$$


Pravděpodobnost vysvětlení dalších pojmů

V urně je 20 různých útvarů (viz obrázek). Náhodně bude vybrán jeden z nich.



Pravděpodobnost vysvětlení dalších pojmů

V urně je 20 různých útvarů (viz obrázek). Náhodně bude vybrán jeden z nich.




jev **Č** ... náhodně vybraný útvar je **červený**

jev **★**.. náhodně vybraný útvar je **hvězda**

Pravděpodobnost vysvětlení dalších pojmů

V urně je 20 různých útvarů (viz obrázek). Náhodně bude vybrán jeden z nich.



jev **Č** ... náhodně vybraný útvar je **červený**


jev **★**.. náhodně vybraný útvar je **hvězda**

$$P(\text{Č}) = \frac{5}{20} = 0,25 = 25\%$$

$$P(\text{Č} \cap \text{★}) = \frac{1}{20} = 0,05 = 5\%$$

Pravděpodobnost vysvětlení dalších pojmů

V urně je 20 různých útvarů (viz obrázek). Náhodně bude vybrán jeden z nich.



jev **Č** ... náhodně vybraný útvar je **červený**

jev **★**.. náhodně vybraný útvar je **hvězda**


$$P(\mathbf{Č}) = \frac{5}{20} = 0,25 = 25\%$$

$$P(\mathbf{Č} \cap \mathbf{★}) = \frac{2}{20} = 0,1 = 10\%$$

Pravděpodobnost

vysvětlení dalších pojmů

V urně je 20 různých útvarů (viz obrázek). Náhodně bude vybrán jeden z nich.



jev **Č** ... náhodně vybraný útvar je **červený**

jev **★**.. náhodně vybraný útvar je **hvězda**


Podmíněná pravděpodobnost

$$P(A|B) = \frac{P(A \cap B)}{P(B)}$$

Pravděpodobnost

vysvětlení dalších pojmů

V urně je 20 různých útvarů (viz obrázek). Náhodně bude vybrán jeden z nich.



čti: „pravděpodobnost jevu A za podmínky, že nastal jev B“


Podmíněná pravděpodobnost

$$P(A|B) = \frac{P(A \cap B)}{P(B)}$$

Pravděpodobnost

vysvětlení dalších pojmů

V urně je 20 různých útvarů (viz obrázek). Náhodně bude vybrán jeden z nich.



čti: „pravděpodobnost jevu A za podmínky, že nastal jev B“

$$P(\check{c}) = \frac{5}{20} = 0,25 = 25\%$$

$$P(\star \cap \check{c}) = \frac{2}{20} = 0,1 = 10\%$$


Podmíněná pravděpodobnost

$$P(A|B) = \frac{P(A \cap B)}{P(B)}$$

Pravděpodobnost

vysvětlení dalších pojmů

V urně je 20 různých útvarů (viz obrázek). Náhodně bude vybrán jeden z nich.



čti: „pravděpodobnost jevu A za podmínky, že nastal jev B“

Podmíněná pravděpodobnost

$$P(A|B) = \frac{P(A \cap B)}{P(B)}$$

$$P(\checkmark) = \frac{5}{20} = 0,25 = 25\%$$

$$P(\star \cap \checkmark) = \frac{2}{20} = 0,1 = 10\%$$

$$P(\star | \checkmark) = \frac{P(\star \cap \checkmark)}{P(\checkmark)} = \frac{0,1}{0,25} = 0,4 = 40\%$$

MVŠO ➔ KNOWLEDGE FOR THE FUTURE

Pravděpodobnost další vlastnosti

1. $P(A') = 1 - P(A)$

2. $P(A \cup B) = P(A) + P(B) - P(A \cap B)$

➤ pokud jsou A, B **disjunktní** jevy, potom je vzorec jednodušší

$$P(A \cup B) = P(A) + P(B)$$

3. $P(A \cap B) = P(A|B) \cdot P(B)$

➤ pokud jsou A, B **nezávislé** jevy, potom je vzorec jednodušší

$$P(A \cap B) = P(A) \cdot P(B)$$

Pravděpodobnost další vlastnosti

1. $P(A') = 1 - P(A)$

Pravděpodobnost jevu
opačného k jevu A

2. $P(A \cup B) = P(A) + P(B) - P(A \cap B)$

➤ pokud jsou A, B **disjunktní** jevy, potom je vzorec jednodušší

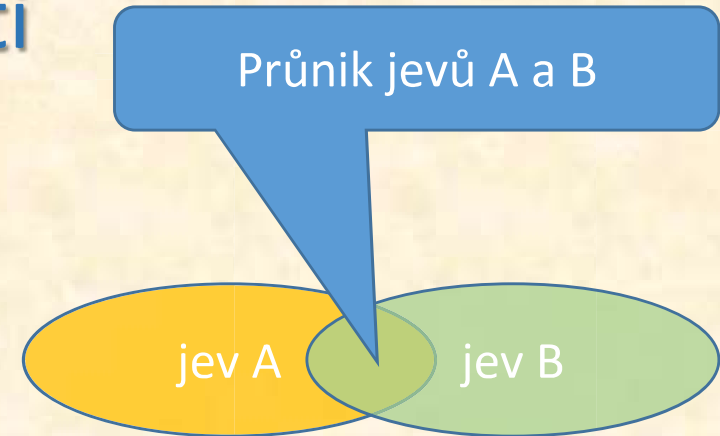
$$P(A \cup B) = P(A) + P(B)$$

3. $P(A \cap B) = P(A|B) \cdot P(B)$

➤ pokud jsou A, B **nezávislé** jevy, potom je vzorec jednodušší

$$P(A \cap B) = P(A) \cdot P(B)$$

Pravděpodobnost vlastnosti



1. $P(A') = 1 - P(A)$

2. $P(A \cup B) = P(A) + P(B) - P(A \cap B)$

➤ pokud jsou A, B **disjunktní** jevy, potom je vzorec jednodušší

$$P(A \cup B) = P(A) + P(B)$$

3. $P(A \cap B) = P(A|B) \cdot P(B)$

➤ pokud jsou A, B **nezávislé** jevy, potom je vzorec jednodušší

$$P(A \cap B) = P(A) \cdot P(B)$$

Pravděpodobnost vlastnosti

1. $P(A') = 1 - P(A)$

2. $P(A \cup B) = P(A) + P(B) - P(A \cap B)$

➤ pokud jsou A, B **disjunktní** jevy, potom je vzorec jednodušší

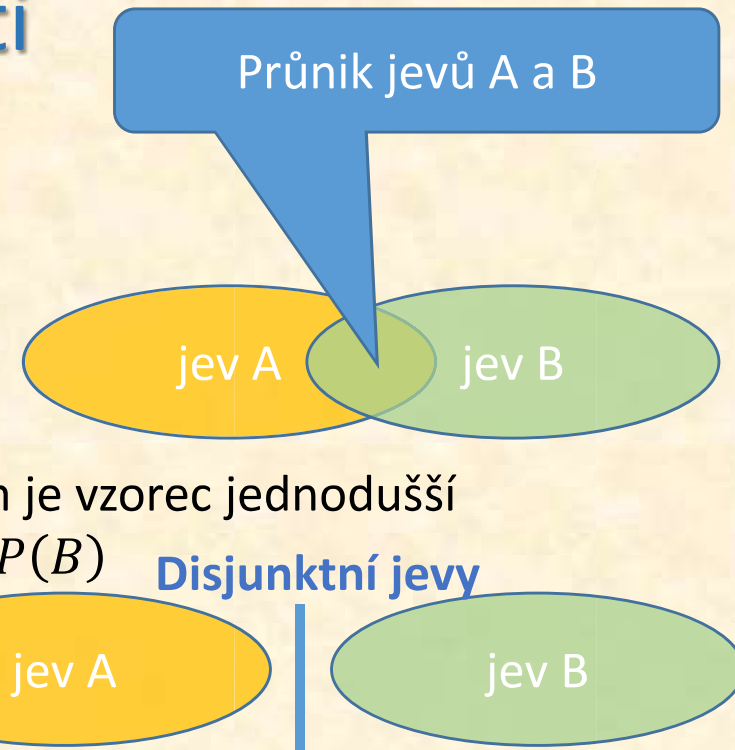
$$P(A \cup B) = P(A) + P(B)$$

Disjunktní jevy

3. $P(A \cap B) = P(A|B) \cdot P(B)$

➤ pokud jsou A, B **nezávislé** jevy, potom je vzorec jednodušší

$$P(A \cap B) = P(A) \cdot P(B)$$



Pravděpodobnost vlastnosti

1. $P(A') = 1 - P(A)$

2. $P(A \cup B) = P(A) + P(B) - P(A \cap B)$

➤ pokud jsou A, B **disjunktní** jevy, potom je vzorec jednodušší

$$P(A \cup B) = P(A) + P(B)$$

Disjunktní jevy

3. $P(A \cap B) = P(A|B) \cdot P(B)$

➤ pokud jsou A, B **nezávislé** jevy, potom je vzorec jednodušší

$$P(A \cap B) = P(A) \cdot P(B)$$

Průnik jevů A a B

jev A

jev B

NEBO

jev A

jev B

Pravděpodobnost vlastnosti

1. $P(A') = 1 - P(A)$

2. $P(A \cup B) = P(A) + P(B) - P(A \cap B)$

➤ pokud jsou A, B **disjunktní** jevy, potom je vzorec jednodušší

$$P(A \cup B) = P(A) + P(B)$$

Disjunktní jevy

3. $P(A \cap B) = P(A|B) \cdot P(B)$

➤ pokud jsou A, B **nezávislé** jevy, potom je vzorec jednodušší

$$P(A \cap B) = P(A) \cdot P(B)$$

Průnik jevů A a B

jev A

jev B

NEBO

jev A

jev B

a zároveň

Pravděpodobnost

Příklad 1: Házíme dvěma kostkami. Vypočtete, jaká je pravděpodobnost toho, že

- a) padne-li na 1.kostce dvojka, padne součet větší než 6.

- b) padne-li na 1. kostce sudé číslo, padne součet větší než 8.

Příklad 2: Kruhový terč má 3 pásma. Pravděpodobnost zásahu

- prvního pásma je 0,2
- druhého pásma 0,23
- třetího pásma 0,15.

Jaká je pravděpodobnost minutí cíle?

Pravděpodobnost

Příklad 1: Házíme dvěma kostkami. Vypočtete, jaká je pravděpodobnost toho, že

a) padne-li na 1.kostce dvojka, padne součet větší než 6.

jev A součet je víc jak 6

jev B na 1. kostce padne 2

$$P(A|B) = \frac{P(A \cap B)}{P(B)} = \frac{\frac{2}{6 \cdot 6}}{\frac{1 \cdot 6}{6 \cdot 6}} = \frac{2}{6} = 0,33 \doteq 33\%$$

b) padne-li na 1. kostce sudé číslo, padne součet větší než 8.

jev A součet je víc jak 8

jev B na 1. kostce padne sudé

$$P(A|B) = \frac{P(A \cap B)}{P(B)} = \frac{\frac{1 \cdot 2}{6 \cdot 6} + \frac{1 \cdot 4}{6 \cdot 6}}{\frac{3 \cdot 6}{6 \cdot 6}} = \frac{1}{3} = 0,33 \doteq 33\%$$

Příklad 2: Kruhový terč má 3 pásma. Pravděpodobnost zásahu

- prvního pásma je 0,2 Z1 zasáhne 1. pásmo, $P(Z1)=0,2$
- druhého pásma 0,23 Z2 zasáhne 2. pásmo, $P(Z2)=0,23$
- třetího pásma 0,15. Z3 zasáhne 3. pásmo, $P(Z3)=0,15$

Jaká je pravděpodobnost minutí cíle?

$$\begin{aligned} P(\text{minutí}) &= 1 - P(\text{jakýkoli zásah}) \\ &= 1 - (0,2 + 0,23 + 0,15) = 0,42 = 42\% \end{aligned}$$

Pravděpodobnost

Příklad 3: Výrobek prochází v průběhu zpracování postupně čtyřmi úrovněmi zpracování. Pravděpodobnost vyrobení zmetku u jednotlivých úrovní je postupně rovna 0,02; 0,03; 0,005; 0,015. Určete pravděpodobnost toho, že výsledkem výrobního procesu v daném případě bude zmetek.

jev Z_m výrobek je zmetek

jev U_1 výrobek prošel 1. úrovní zpracování, $P(U_1 \cap Z_m) = 0,02$

jev U_2 výrobek prošel 2. úrovní zpracování, $P(U_2 \cap Z_m) = 0,03$

jev U_3 výrobek prošel 3. úrovní zpracování, $P(U_3 \cap Z_m) = 0,005$

jev U_4 výrobek prošel 4. úrovní zpracování, $P(U_4 \cap Z_m) = 0,015$

$$\begin{aligned} P(Z_m) &= 1 - P(\text{není } Z_m) = 1 - P(U_1 \cap \text{není } Z_m) \cdot P(U_2 \cap \text{není } Z_m) \cdot P(U_3 \cap \text{není } Z_m) \cdot P(U_4 \cap \text{není } Z_m) = \\ &= 1 - (1 - P(U_1 \cap \text{není } Z_m)) \cdot (1 - P(U_2 \cap \text{není } Z_m)) \cdot (1 - P(U_3 \cap \text{není } Z_m)) \cdot (1 - P(U_4 \cap \text{není } Z_m)) = \\ &= 1 - 0,98 \cdot 0,97 \cdot 0,995 \cdot 0,985 = 0,06834 \doteq 7\% \end{aligned}$$

Příklad 4: Z celkové produkce závodu jsou 4% zmetků. Z vyhovujících výrobků je 75% standardních. Určete pravděpodobnost, že náhodně vybraný výrobek je standardní.

Z_m výrobek je zmetek, $P(Z_m) = 0,04$

V_{yh} výrobek je vyhovující, $P(V_{yh}) = 1 - P(Z_m) = 1 - 0,04 = 0,96$

St výrobek je standardní, $P(V_{yh} | St) = 0,75$

$$P(St \text{ a zároveň } V_{yh}) = P(St \cap V_{yh}) = P(St | V_{yh}) \cdot P(V_{yh}) = 0,75 \cdot 0,96 = 0,72 = 72\%$$